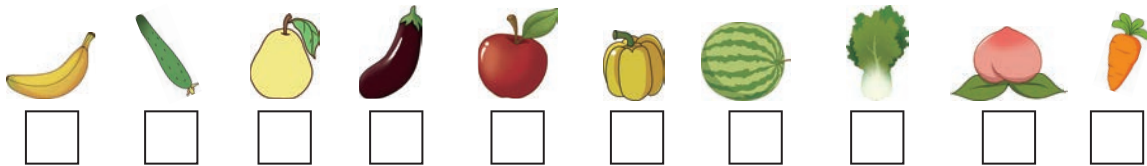



第1课时 分类与整理(1)

同步练习


- zài shuǐ guǒ xià miàn huà “√”, zài shū cài xià miàn huà “○”。
1. 在水果下面画“√”，在蔬菜下面画“○”。




- zhǎo chū měi zǔ dōu yǒu de shuǐ guǒ bǎ tā tú shàng yán sè
2. 找出每组都有的水果，把它涂上颜色。



- fēn yī fēn tián yì tián
3. 分一分，填一填。




- zài huì fēi de dòng wù xià miàn huà shàng “√”, zài néng zài shuǐ lǐ shēng huó de dòng wù xià miàn huà shàng “△”。
4. 在会飞的动物下面画上“√”，在能在水里生活的动物下面画上“△”。



试题精选

- měi háng zhōng bù tóng de shì shén me bǎ tā quān chū lái
4. 每行中不同的是什么？把它圈出来。




第2课时 分类与整理(2)

同步练习

qǐng nǐ fēn bié zhěng lǐ yí xià

1. 请你分别整理一下。



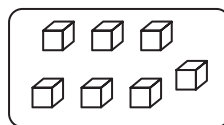
卡片形状			
数量			

水果种类			
数量			

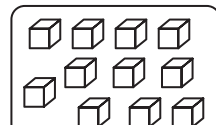
yǒu liǎng duī jī mù

2. 有两堆积木:

- (1) 第一堆 () 个, 第二堆 () 个,
第一堆比第二堆少 () 个。
- (2) 要使两堆积木一样多, 可以从第 ()
堆拿出 () 个放到第 () 堆。
- (3) () + () = () - ()。



第一堆




第二堆

gēn jù tí yì jiě dá xià miàn de wèn tí

3. 根据题意解答下面的问题。

(1) 填写下表。

	共 () 个
	共 () 个
	共 () 个

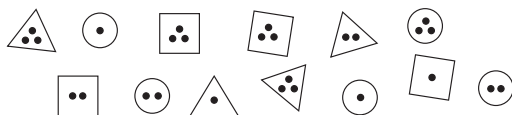


- (2) 比 少 () 个。列式为: ()。
- (3) 比 多 () 个。列式为: ()。

试题精选

fēn lèi zhěng lǐ xià miàn de tú xíng

4. 分类整理下面的图形。



(1) 按图形的形状分, 并涂一涂。(2) 按图形内的点数分。

△	□	○	
△	□	○	△ () 个
△	□	○	□ () 个
△	□	○	○ () 个

点数	·	··	...
个数			

整理和复习

模块 分类与整理

qǐng nǐ gěi xià liè suàn shì fēn lèi
1. 请你给下列算式分类。

$3+9$

$15-6$

$4+8$

$17-8$

$3+6$

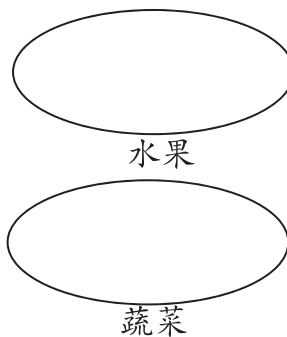

$12-0$

$4+5$

把分类的结果整理在表中。

(1)	算式	加法算式	减法算式	(2)	得数	得数是 12	得数是 9
	个数				个数		


qǐng nǐ bǎ shuǐ guǒ hé shū cài fēn lèi jiāng tā men de xù hào fēn bié tián zài xiāng yīng de quān zhōng
2. 请你把水果和蔬菜分类，将它们的序号分别填在相应的圈中。



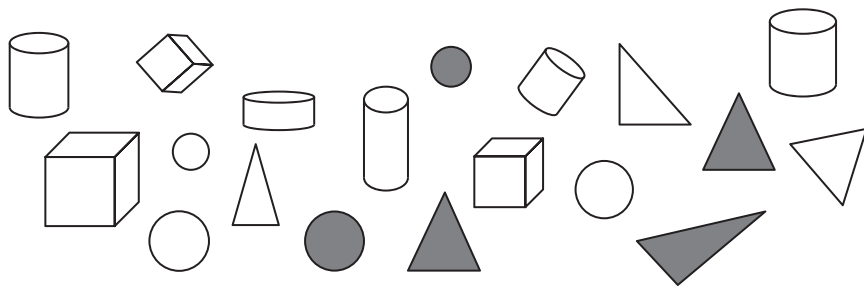
dòng wù yuán lǐ jǐ zhǒng dòng wù de tǒng jì biǎo
3. 动物园里几种动物的统计表。

9 只	4 只	10 只	7 只

把上表中每种动物的只数在格子图中涂色表示出来。(每小格表示 1 只)



qǐng nǐ zhěng lǐ yí xià
4. 请你整理一下。



(1) 把分类的结果整理在表中。

颜色	灰色	白色
个数		

(2) 根据上面表格分类的结果，回答以下问题。

形状	圆柱	正方体	圆形	三角形
个数				

() 的个数最多，() 的个数最少。

() 的个数和() 的个数同样多。

() 的个数比() 的个数多3个。

(3) 如果把这些图形分成两组，可以怎样分？把分组的结果表示出来。

种类		
个数		

xià tú shì mǒu yuè de tiān qì qíng kuàng jì lù biǎo
5. 下图是某月的天气情况记录表。

(1) 根据右图完成下表。

(2) 比 多几天？

$$\square \bigcirc \square = \square \text{ (天)}$$

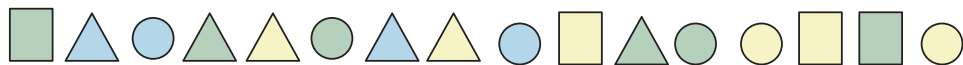
(3) 和 一共几天？

$$\square \bigcirc \square = \square \text{ (天)}$$

1	2	3	4	5	6	7	8
9	10	11	12	13	14	15	16
17	18	19	20	21	22	23	24
25	26	27	28	29	30	31	

第三单元达标练习

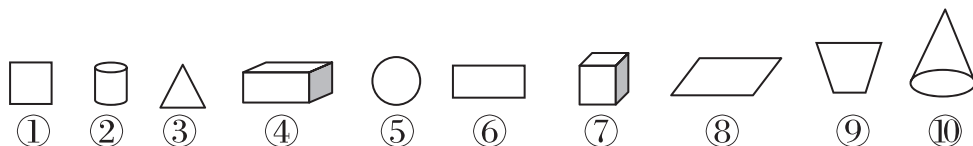
tián yì tián
1. 填一填。



(1) 按照形状分，可以分为()类，其中长方形有()个，三角形有()个，圆形有()个。

(2) 按照颜色分，可以分为()类，其中绿色的有()个，蓝色有()个，黄色有()个。

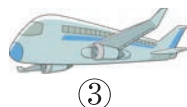

gěi xià liè tú xíng fēn lèi
2. 给下列图形分类。



(1) 平面图形有()；

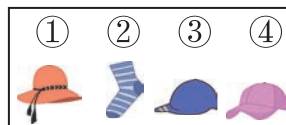

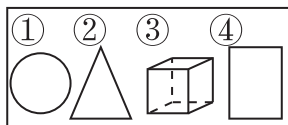
(2) 立体图形有()。

fēn yì fēn tián xù hào
3. 分一分，填序号。



天上飞的：()；地上跑的：()；水上游的：()。

zài xià miàn de fāng kuàng lǐ nǎ ge shì hé qí tā sān gè bù tóng lèi de qǐng nǐ
4. 在下面的方框里，哪个是和其他三个不同类的？请你
quān chū duì yìng de xù hào
圈出对应的序号。




fēn yì fēn
5. 分一分。

请你说一说，若是把图中的人分成三组，应该怎么分？

第一种分法：_____

第二种分法：_____

第三种分法：_____




xià miàn shì mǒu chéng shì shí èr yuè fèn de tiān qì qíng kuàng

6. 下面是某城市十二月份的天气情况。

1	2	3	4	5	6	7	8	9	10	11
12	13	14	15	16	17	18	19	20	21	22
23	24	25	26	27	28	29	30	31		

(1) 涂一涂。



(2) 填一填。

() 天	() 天	() 天	() 天

(3) 说一说。

() 天最多, () 天和 () 天一样多, 比 少 () 天。

试题精选

yì nián jí

bān tóng xué zuì xǐ huan chī shuǐ guǒ de qíng kuàng rú xià

7. 一年级(1)班同学最喜欢吃水果的情况如下。

根据右图填写下表。

人数					



根据上面的统计回答下列问题。

(1) 喜欢吃 () 的人数最多, 喜欢吃 () 的人数最少。

(2) 喜欢吃 () 和 () 的人数一样多。

(3) 喜欢吃苹果的人数比喜欢吃 () 的人数多 () 人。

(4) 你还能提出什么问题?

问题: _____

解答: _____